

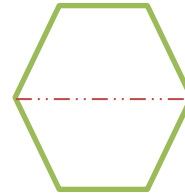
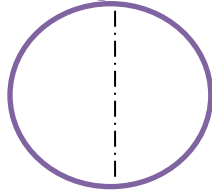
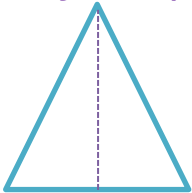
SHF., _____ ”

Emri e mbiemri _____ kl.II No _____ Data _____

Niveli i ulët Niveli i mesëm Niveli i lartë

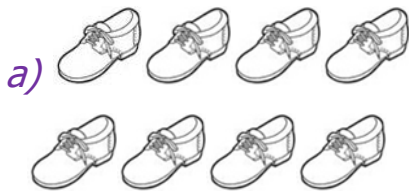
Kontrolloi _____ Prindi _____

1. Ngjyros një të dytën e secilës figurë!



2. Ngjyros gjysmën e figurave në secilin grup. Shkruaj përgjigjet.

Një e dyta e numrit 8 është _____



Një e dyta e numrit 10 është _____



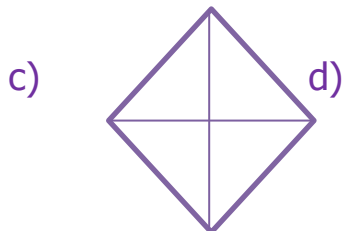

Një e dyta e numrit 6 është _____



Një e dyta e numrit 2 është _____



3. Ngjyros një të katërtën e secilës figurë.



Ngjyros që të paraqesësh një të katërtën e grupit.

$\frac{1}{4}$ e _____ është _____



$\frac{1}{4}$ e _____ është _____

